



Escuela Industrial San Antonio

Establecimiento Particular Subvencionado gratuito
Sostenedor: Fundación Educacional San Antonio – RUT.: 65.624.710-K
RBD: 2044-3

Guía de trabajo ISCEI 4A

Profesor: CRISTIAN ZUÑIGA GONZALEZ

Objetivo de la clase:

Reconocer la simbología utilizada en la confección de planos eléctricos

Tiempo para trabajar el material:

Tiempo de retroalimentación del material:

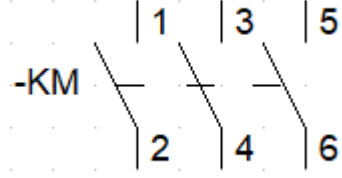
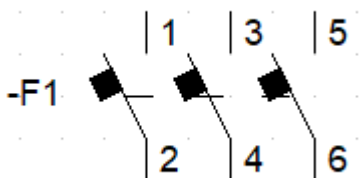
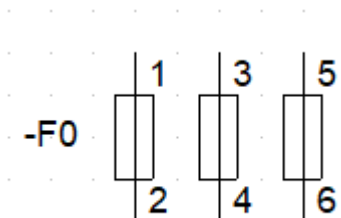
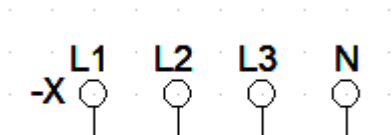
Nombre del alumno

- **No hay límites a lo que puedes crear para ti, porque tu habilidad para pensar es ilimitada.**

RECUERDA QUE:

En caso de contar con internet y poder acceder a la plataforma classroom, debes realizar y enviar tus tareas, además de aclarar tus dudas por esta plataforma. De lo contrario, debes hacer llegar tu trabajo al colegio en cuanto puedas, completando tu nombre en la parte destinada en recuadro superior.

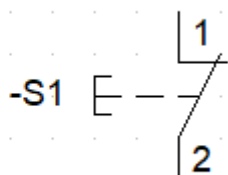
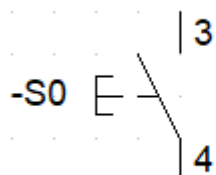
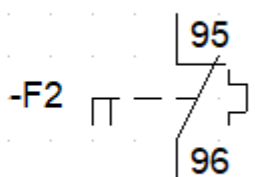
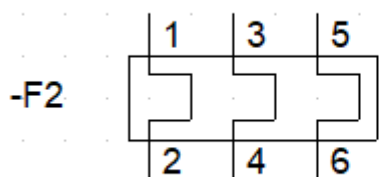
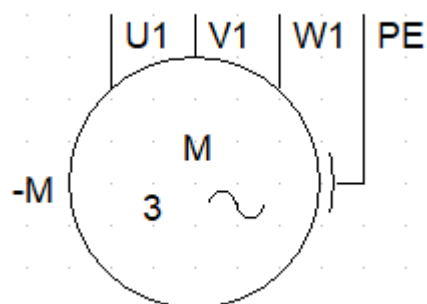
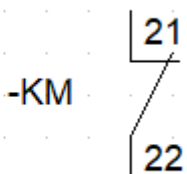
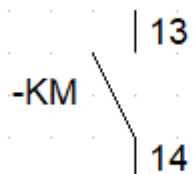
ESCRIBA EL NOMBRE DE CADA UNO DE LOS SIMBOLOS.





Escuela Industrial San Antonio

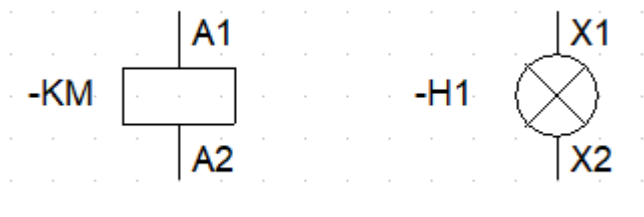
Establecimiento Particular Subvencionado gratuito
Sostenedor: Fundación Educacional San Antonio – RUT.: 65.624.710-K
RBD: 2044-3





Escuela Industrial San Antonio

Establecimiento Particular Subvencionado gratuito
Sostenedor: Fundación Educacional San Antonio – RUT.: 65.624.710-K
RBD: 2044-3



AHORA CON LA SIMBOLOGIA YA VISTA DESARROLLAR EL SIGUIENTE CIRCUITO

1. CIRCUITO ESCALONADO PARA 3 MOTORES